

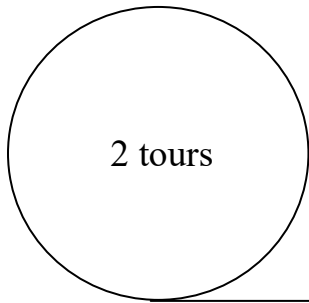
Série ROUGE - GRANDEURS ET MESURES

L'ÉPREUVE DU CERCEAU

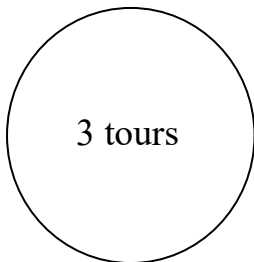
Les élèves d'une école font rouler des cerceaux sur une distance de 942 centimètres. Le plus grand des cerceaux a effectué deux tours complets sur lui-même ; le moyen cerceau a fait trois tours sur lui-même et le plus petit cerceau a roulé en faisant six tours sur lui-même.

En testant sur des cercles ou des cerceaux, trouver le nombre approché qui permet de calculer la longueur du cercle en multipliant le diamètre.

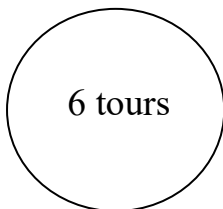
Quel est alors ici le diamètre de chaque cerceau (en valeur approchée) ?



942 cm



942 cm



942 cm