

ETAPE 1 SERIE JAUNE – Espace et géométrie

CHAQUE ANIMAL DANS SA MAISON

« Il commence à faire nuit et c'est le moment pour chaque animal de rentrer chez lui. Aidez-les à retrouver leur maison. »

La souris est dans la case au-dessus du mouton.

Le singe est au-dessous de la case de la vache.

Les deux poissons sont l'un à côté de l'autre.











Le deuxième lapin est au milieu de la ligne du haut.

Le deuxième chat est dans la case à côté de l'éléphant.

Il y a une autre vache sous la case de l'éléphant.

Le deuxième éléphant est entre la poule et le mouton.

Il te reste deux cases vides pour les chiens.































MATERIEL ET REMARQUES : Le groupe est constitué de 5 élèves disposant chacun de 2 cases animaux.

L'adulte énonce le texte lentement. Chaque élève, tour à tour, pose un des animaux énoncés. Le groupe valide.

(d'après Défi maternelle Académie de Nancy-Metz)

ETAPE 1 SERIE JAUNE – Espace et géométrie

CHAQUE ANIMAL DANS SA MAISON Animaux à découper

Rallye Maths 95 – IREM épreuves maternelle 2013-2014
SOLUTIONS - ETAPE 1 SERIE JAUNE

CHAQUE ANIMAL DANS SA MAISON

