

## ETAPE 2 SERIE BLEUE – Résoudre des problèmes portant sur les quantités

### LA FERME DE MADAME JEANNE

« Dans la ferme de Madame Jeanne, il y a 2 vaches, 5 poules et 1 lapin.

Combien cela fait-il de pattes, de têtes et d'ailes ? »






2 vaches



5 poules



1 lapin

Nombre de pattes 	
Nombre de têtes 	
Nombre d'ailes 	

**SOLUTION ETAPE 2 – Résoudre des problèmes portant sur les quantités**

**SERIE BLEUE LA FERME DE MADAME JEANNE**

Dans la ferme de Madame Jeanne il y a 22 pattes, 8 têtes et 10 ailes.