



ETAPE 2 SERIE BLEUE- Grandeurs et mesures

NOIR, C'EST NOIR


Quel carré a la plus grande surface noircie?




A



B



C



D

SOLUTION ETAPE 1

SERIE BLEUE

NOIR, C'EST NOIR !

En faisant apparaître le quadrillage qui a servi de support au dessin, on peut voir que le carré ayant la plus grande surface noircie est le A (4 carrés noirs et un demi carré, pour les autres seulement 4 carrés noirs).