

ETAPE 1 SERIE VERTE- logique

FRUITOMATHS

Trouve la valeur de chaque fruit pour que ces opérations soient justes

Pour t'aider, un des nombres est déjà décodé.







$$\text{Pineapple} + \text{Pineapple} + \text{Pineapple} = \text{Banana}$$

$$\text{Banana} + \text{Pineapple} + \text{Pineapple} = \text{Apple}$$

$$\text{Apple} - \text{Banana} = \text{Pear}$$

$$\text{Pear} + \text{Pear} + \text{Pear} = \text{Kiwi}$$

$$\text{Apple} - \text{Pineapple} = \text{Orange}$$

	=	1		=		=
	=			=		=

SOLUTION ETAPE 1

SERIE VERTE

FRUITOMATHS

Voici la valeur de chacun des fruits:

$$\text{🍍} = 1$$

$$\text{🍌} = 3$$

$$\text{🍏} = 5$$

$$\text{🍐} = 2$$

$$\text{🥝} = 6$$

$$\text{🍊} = 4$$