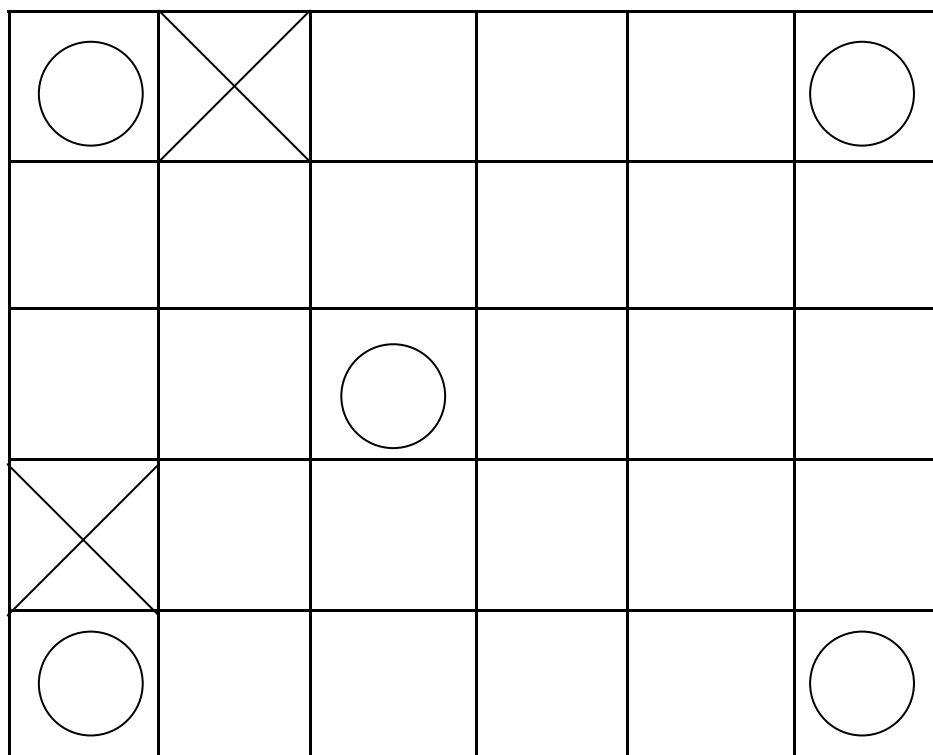
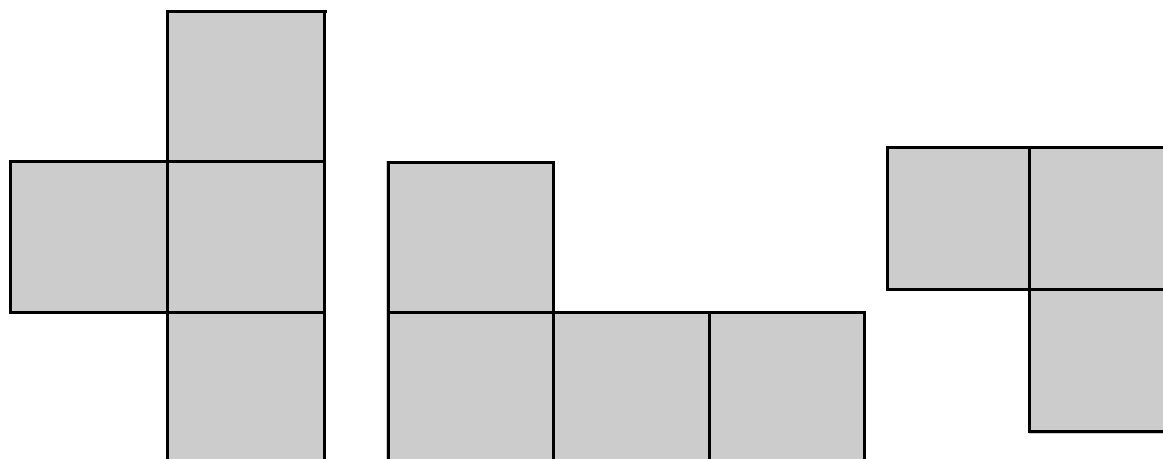


ETAPE 2 Série verte – Logique

LES BATEAUX AU PORT

Placez ces trois bateaux. Attention! Ces bateaux ne peuvent se toucher ni par un côté ni par un sommet.



○ = Vide

⊗ = Touché

ETAPE 2 Série bleue– Logique

LES PAPILLONS

Coloriez les papillons.

Le rose est plus à gauche que le rouge.



Le blanc est à côté du jaune et du violet.

Le jaune est le plus grand.

Le violet est plus petit.

Le rouge est plus haut que le bleu et le vert.

Le bleu est à droite du vert.



ETAPE 2 Série jaune – Logique

LE SIXIEME NOMBRE

Quel sera la sixième nombre de la liste?

Etape 1 :

24 - 48 - 50 - 100 - 102 - ?


Etape 2 :

3 - 9 - 7 - 21 - 19 ?

Etape 3 :

2 - 2,5 - 10 - 10,5 - 42 ?

LA PROMENADE EN VELO



Ils sont six à faire du vélo.

John est en rouge dans les trois premiers.

Pedro est devant Eddy et derrière Laurent.

Eddy et Laurent sont de la même couleur.

Alberto est devant Polo.

QUI EST QUI ? (écrire les prénoms sous les vélos)

Laurent est premier : vrai ou faux ?

Si Alberto est dépassé, il devient dernier : vrai ou faux ?

Si John gagne 2 places, il devient premier : vrai ou faux ?

Si le 3ème double le 2ème, il devient premier : vrai ou faux ?

Pedro est juste devant John : vrai ou faux ?

ETAPE 2 - SERIE ARC-en-CIEL - LOGIQUE

LE GARDIEN

Un gardien travaille quatre jours de suite et se repose le cinquième jour.

Après un dimanche de repos, il reprend son travail le lundi.

Combien de jours après ce lundi lui faudra t-il attendre avant de se reposer à nouveau un dimanche?



Issu de TIJI site