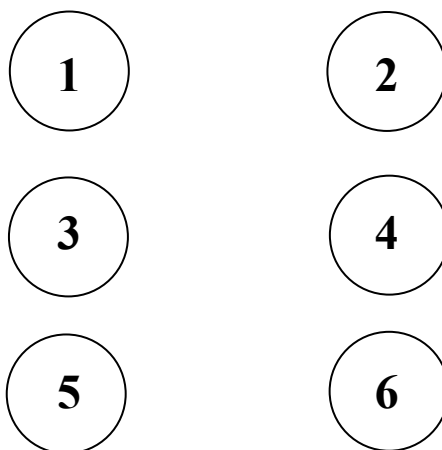


ÉTAPE 2 Série verte - Nombres et calculs

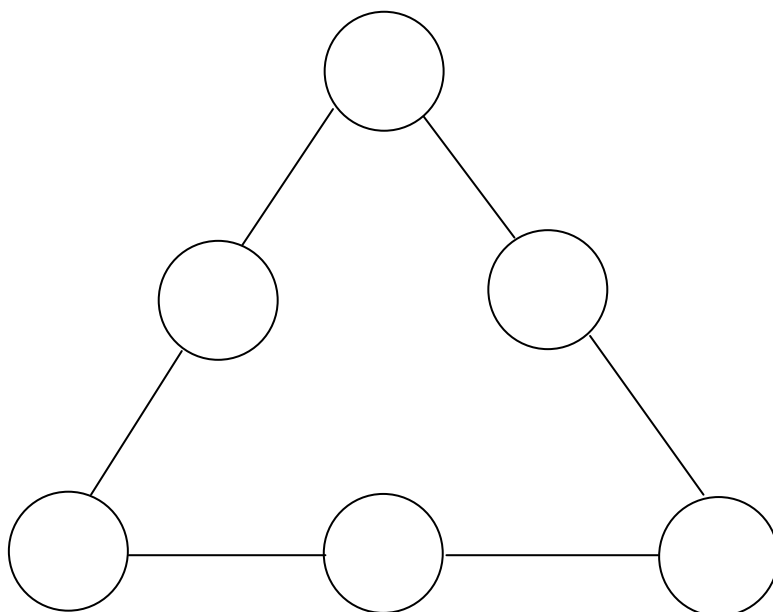
1, 2, 3, partez !

Le vaisseau spatial ne peut décoller que si l'on tape le code secret sur son écran.

On ne peut utiliser chaque nombre qu'une seule fois et chaque ligne fait une somme de 9.



En ajoutant ces nombres, vous devez obtenir 9 sur chaque ligne.



ÉTAPE 2 Série bleue – Nombres et calculs

Le trésor



Pour trouver le trésor de Tapadissous, vous devez réussir à traverser le pont aux nombres. L'enchanteur Paparka vous prévient : « Avant de traverser ce pont, il faut que vous trouviez le nombre secret caché sur une pierre. Si vous vous trompez, le pont s'écroulera et vous périrez sous le poids des pierres. »


Pour trouver le nombre secret, voici quelques indices :

- **il ne contient pas le chiffre 1 ;**
- **un de ses chiffres est 4 ;**
- **il est plus petit que 42 ;**
- **il est plus grand que 37.**




ÉTAPE 2 Série jaune – Nombres et calculs

Combien coûte un camion ?



40 €



55 €

ÉTAPE 2 Série rouge - Nombres et calculs

SUMATH

Sumath doit traverser la rivière en sautant d'un rocher à un rocher voisin. La seule contrainte est que la différence entre les numéros des rochers soit strictement inférieure à 13.

Quel est le chemin le plus court (celui qui passe par le moins de rochers) ?

